


**Mg 1**

- opakování - úhly

1. Zjisti, který obrazec má pravý úhel.


a/



b/




c/



---

d/



e/



f/



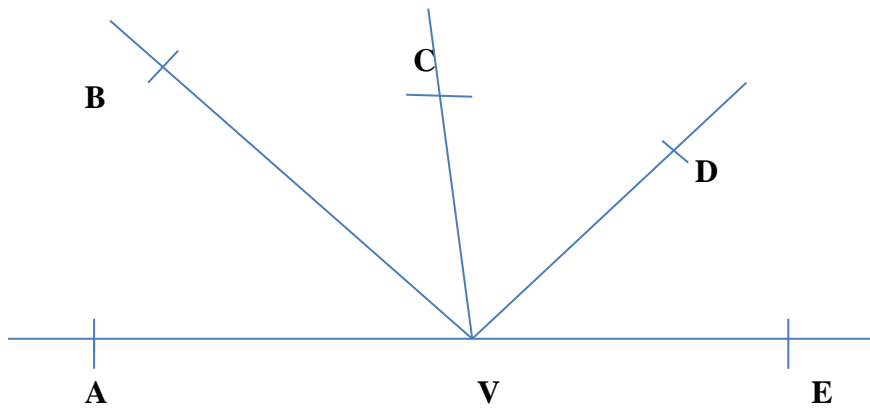
---

2. Narýsuj

a/ přímý úhel KLM

b/ pravý úhel RST

3. Vypiš všechny úhly, které vidíš na obrázku. Kolik jich je?



---

---

4. Narýsuj přímý úhel AVB a narýsuj jeho osu  $o$ . Na co osa  $o$  dělí přímý úhel?

5. Narýsuj úhel RST, který je větší než úhel XYZ.